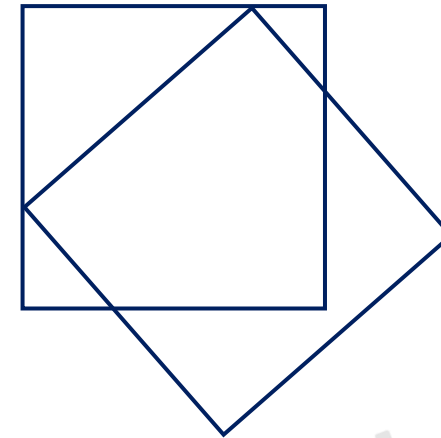


Quadratisch, praktisch, gut

Auf der Zeichnung rechts sieht man zwei gleich große Quadrate, die genau vier gemeinsame Punkte haben.

Die Quadrate können aber auch so gezeichnet werden, dass sie...

- a) genau einen gemeinsamen Punkt
- b) genau drei gemeinsame Punkte
- c) genau sechs gemeinsame Punkte
- d) genau acht gemeinsame Punkte



... haben.


Fertige zu jeder dieser Anzahlen eine mögliche Zeichnung an.

Für jede korrekt gelöste Teilaufgabe gibt es einen Punkt.



Nutze die Rückseite als Lösungsblatt!

Die Aufgabe findest du auch auf der Schulhomepage!






STADTTEILSCHULE
KIRCHWERDER



der Woche

Name: _____

Klasse: _____



Viel
Erfolg!